

Géométrie

1 a

Entraînement
ceinture rouge



Quelles lettres sont symétriques ?

V B F L

Géométrie

1 b

Entraînement
ceinture rouge



Quelles lettres sont symétriques ?

R S T U

Géométrie

1 c

Entraînement
ceinture rouge



Quelles lettres ont un axe de symétrie ?

Quelle lettre a deux axes de symétrie ?

D E G H

Géométrie

1 d

Entraînement
ceinture rouge



Quelles lettres ont un axe de symétrie ?

Quelle lettre a deux axes de symétrie ?

C X A Q

Géométrie

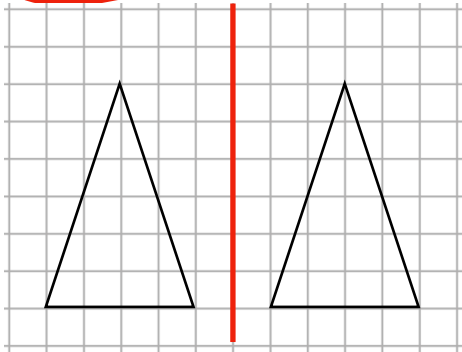
2a

Entraînement
ceinture rouge

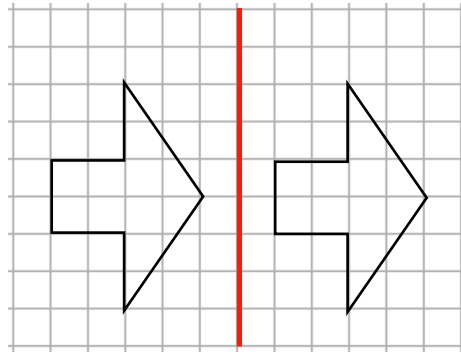
Vérifie les axes de symétrie.



A



B



Sur l'image ♦, l'axe de symétrie est bien placé.

Géométrie

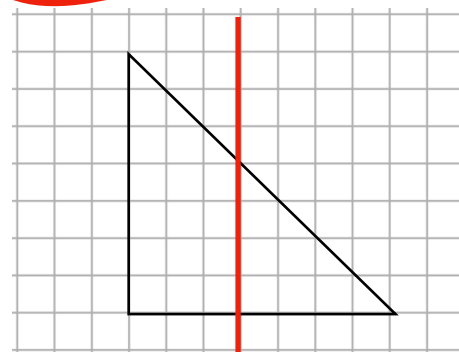
2b

Entraînement
ceinture rouge

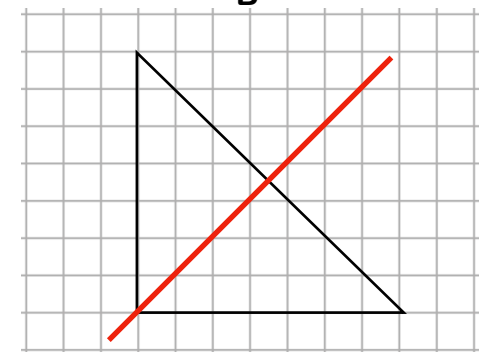
Vérifie les axes de symétrie.



A



B



Sur l'image ♦, l'axe de symétrie est bien placé.

Géométrie

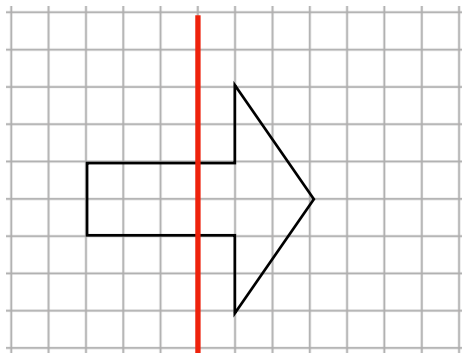
2c

Entraînement
ceinture rouge

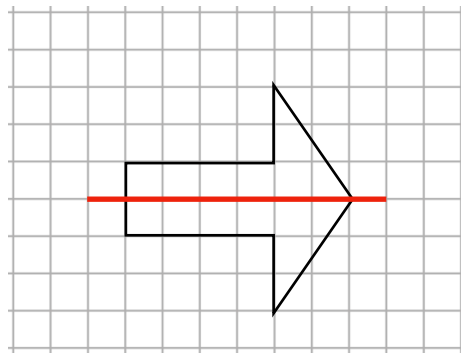
Vérifie les axes de symétrie.



A



B



Sur l'image ♦, l'axe de symétrie est bien placé.

Géométrie

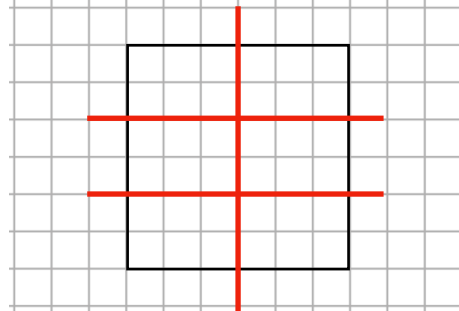
2d

Entraînement
ceinture rouge

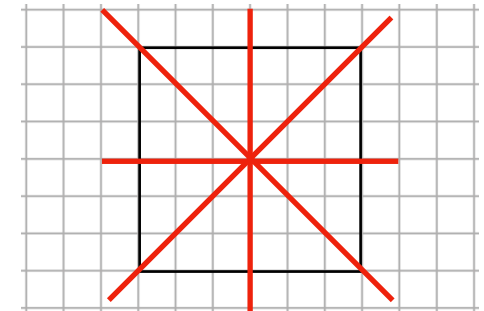
Vérifie les axes de symétrie.



A



B



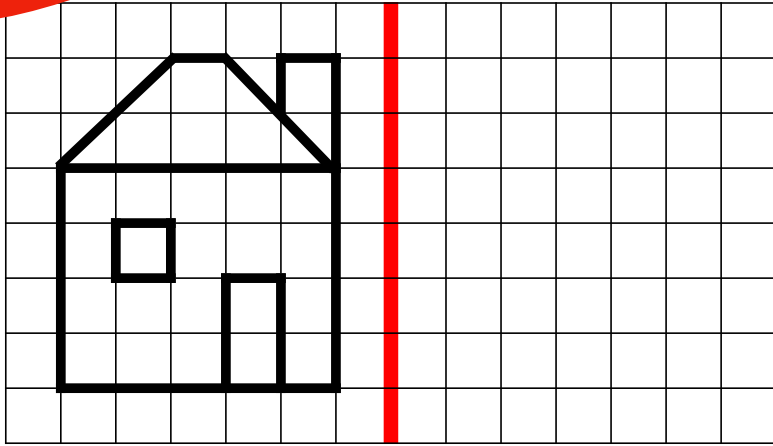
Sur l'image ♦, les axes de symétrie sont bien placés.

Géométrie

Entraînement
ceinture rouge

3a

Trace le symétrique
de cette figure.

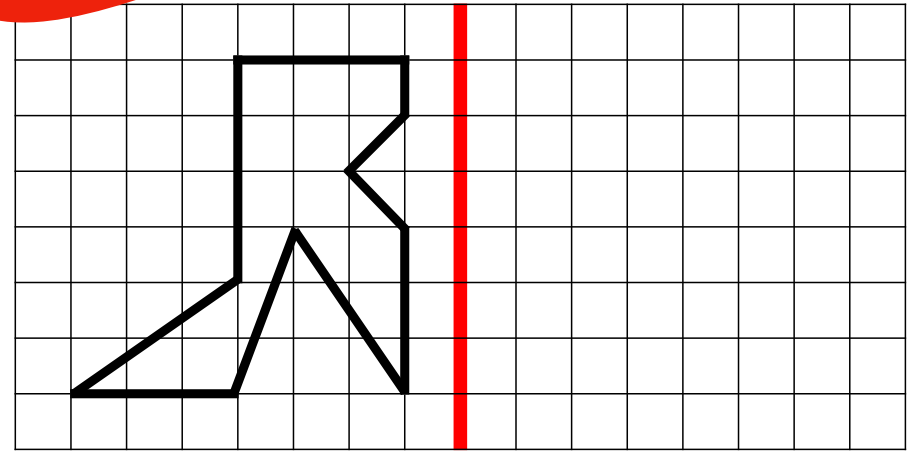


Géométrie

Entraînement
ceinture rouge

3b

Trace le symétrique
de cette figure.

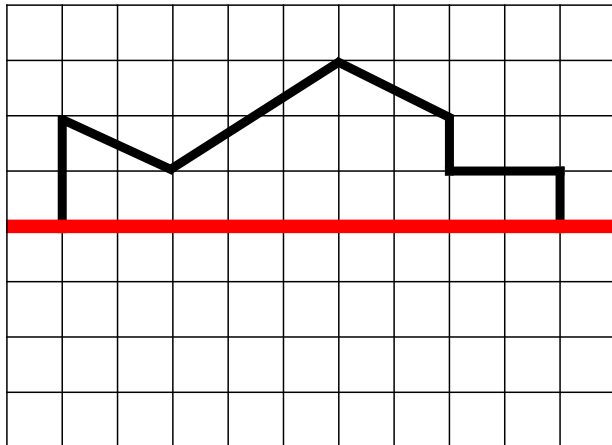


Géométrie

Entraînement
ceinture rouge

3c

Complète cette
figure par symétrie.



Géométrie

Entraînement
ceinture rouge

3d

Complète cette
figure par symétrie.

